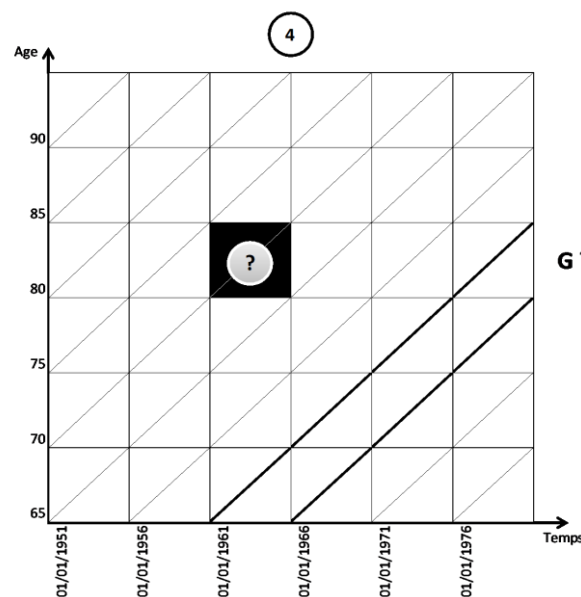
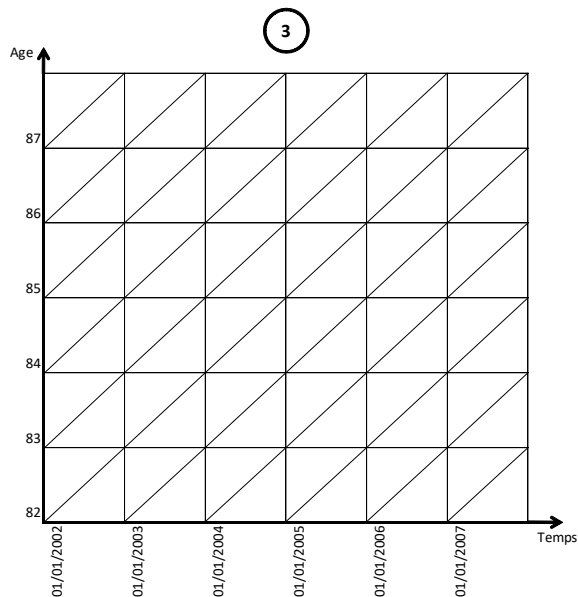
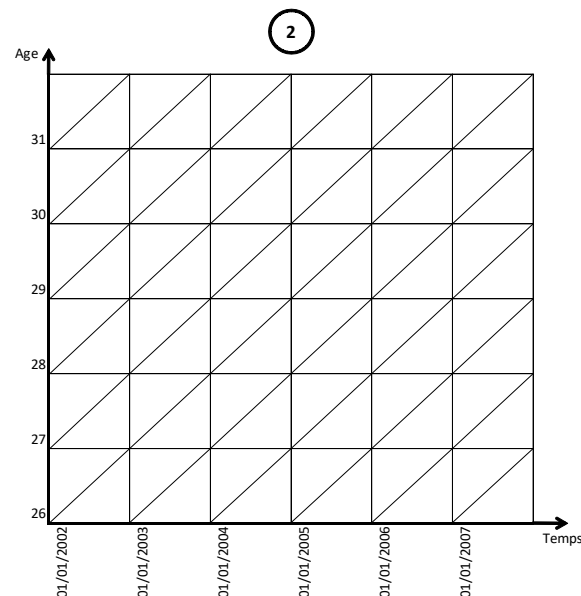
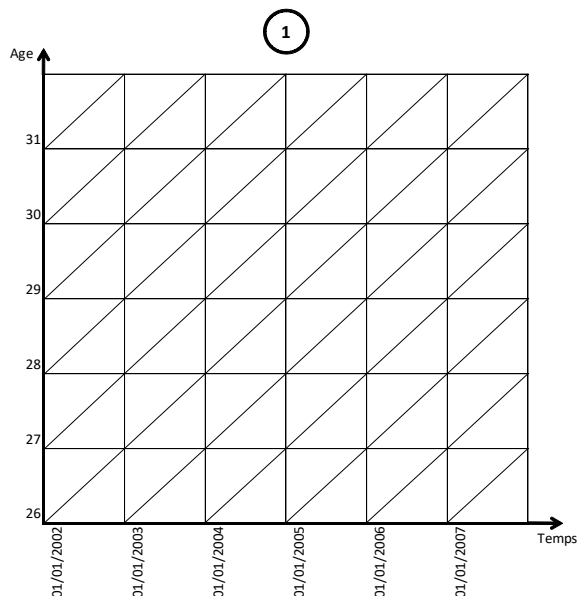


Le diagramme de Lexis



- ① Indiquez sur le diagramme de Lexis :
- l'effectif de personnes âgées de 27-28 ans révolus le 1/1/2003 ;
 - les migrations au cours de l'année 2004 des personnes qui ont 27 ans cette année-là (en différence de millésime).
- ② Indiquez sur le diagramme de Lexis :
- la Génération 1974 ;
 - les migrations de la génération 1977 à 29 ans révolus.
- ③ Indiquez sur le diagramme de Lexis :
- les décès en 2005 à 84 ans révolus. A quelle(s) génération(s) correspondent ces décès ?
 - les décès à 86 ans révolus en 2003 de personnes nées en 1916.
- ④
- A quelle(s) génération(s) appartiennent les personnes dont la trajectoire se trouve dans la diagonale « G ? » ?
 - Expliquez à quoi correspondent les événements figurant dans le carré noir :
 - en quelle(s) année(s) ont-ils lieu ?
 - à quel(s) âge(s) ?
 - Quelles sont la ou les génération(s) concernée(s) ?