

Idup / mars 21

L3 / Évolution des comportements démographiques (JFL)

La mortalité_contrôle continu 2

La mortalité : évolution et inégalités entre les sexes et selon le niveau de vie

Consigne générale : Répondez à chacune des questions de manière précise mais concise. Il s'agit aussi d'un exercice de synthèse de vos connaissances. Chaque question devra être traitée en moins d'une page. Aérez votre texte pour qu'il soit plus facile à lire. Rendez une copie propre.

En vous appuyant sur le document 1

Q1. [5 pts] Espérances de vie du moment et de génération

- Donnez une définition de l'espérance de vie à la naissance.
- Expliquez quelle est la différence entre l'espérance de vie à la naissance du moment et l'espérance de vie à la naissance de génération.
- Pourquoi l'espérance de vie à la naissance de génération est équivalente à l'espérance de vie à la naissance du moment jusqu'au milieu du XIXe siècle ? Pourquoi la première est-elle ensuite systématiquement supérieure à la seconde ?

Q2. [5 pts] Les facteurs de l'évolution de la mortalité depuis 1850

Quelles sont les grandes étapes et les principaux facteurs de l'augmentation de l'espérance de vie à la naissance depuis la moitié du XIXe siècle en France ?

En vous appuyant sur le document 2

Q3. [5 pts] Les différences d'espérance de vie à la naissance entre les femmes et les hommes

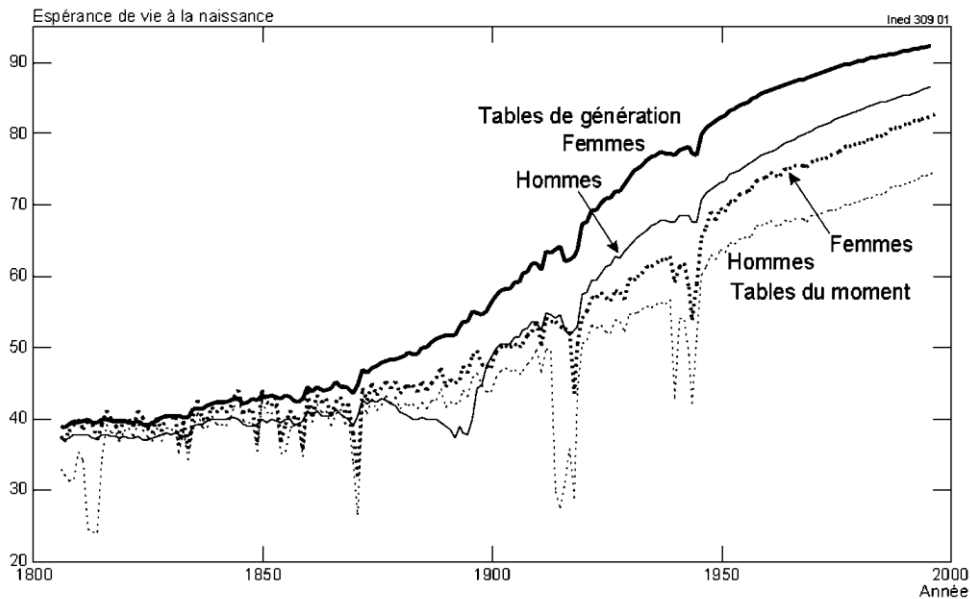
- Quels sont les principaux facteurs de l'écart d'espérance de vie à la naissance entre les femmes et les hommes aujourd'hui en France ?
- Quelles raisons expliquent l'accroissement de cet écart au cours du XXe siècle ? Comment évolue cet écart aujourd'hui ?
- Quelles sont les tendances ailleurs dans le monde et quelles sont les perspectives pour les prochaines décennies ?

En vous appuyant sur le document 3

Q4. [5 pts] Les différences d'espérance de vie à la naissance selon le niveau de vie

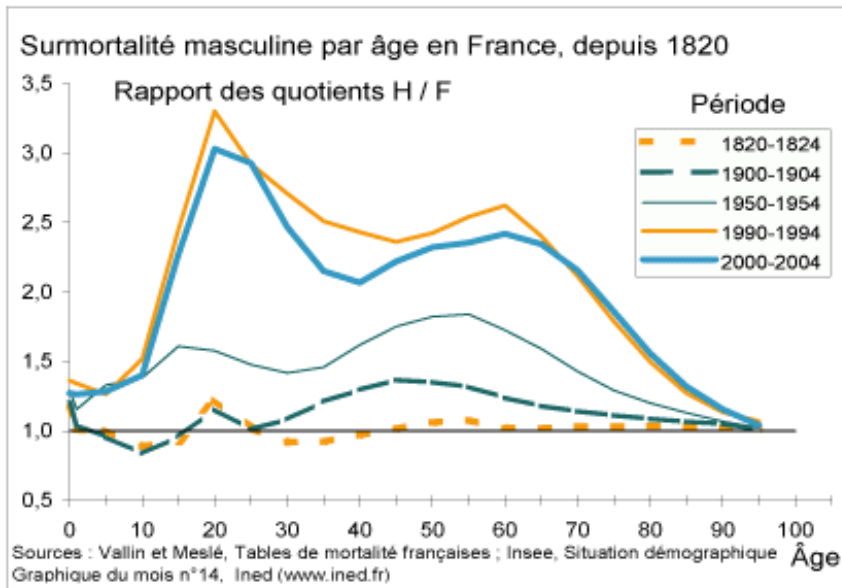
Commentez le document 3. Pourquoi les individus les plus aisés vivent-ils plus longtemps ?

Document 1



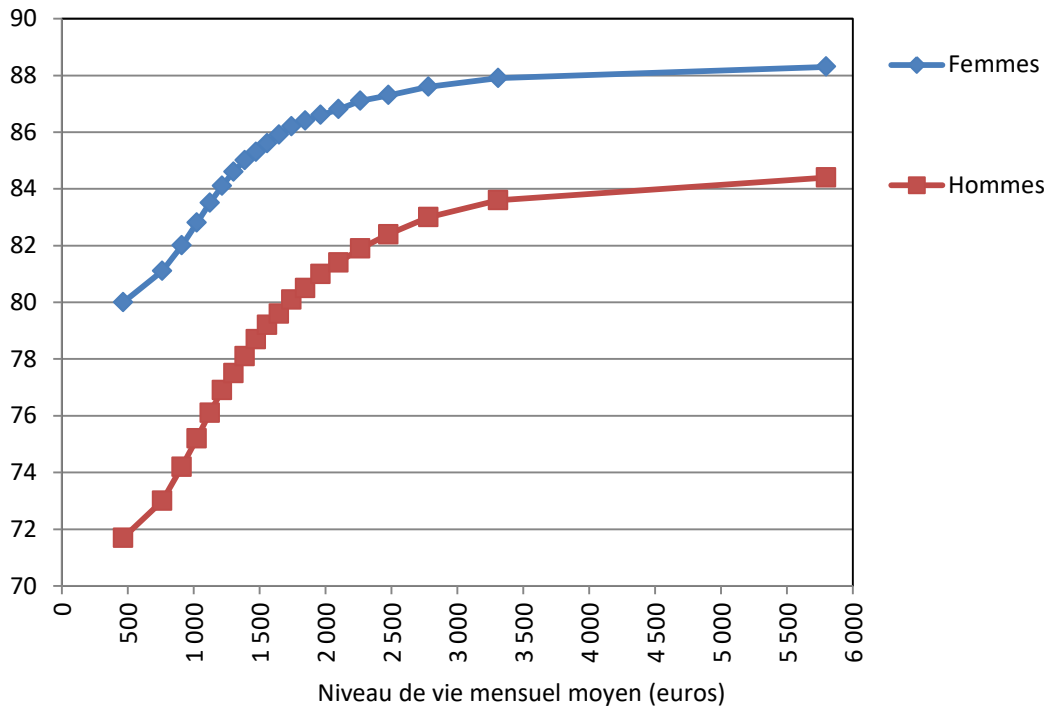
Source: J. Vallin, F. Meslé, "Tables de mortalité françaises pour les XIXe et XXe siècles et projections pour le XXIe siècles", *Données Statistiques*, n°4-2001, Editions de l'Ined, 2001, pp. 43-51.

Document 2 : Evolution de la surmortalité masculine selon l'âge en France



Source : Vallin et Meslé, Tables de mortalité françaises ; Insee, Situation démographique. Graphique du mois n° 14, Ined (www.ined.fr)

Document 3 : Espérance de vie à la naissance par sexe et niveau de vie mensuel en France au cours de la période 2012-2016



Note : en abscisse, chaque point correspond à la moyenne des niveaux de vie mensuels d'un vingtile. Chaque vingtile comprend 5 % de la population.

Lecture : en 2012-2016, parmi les 5 % les plus aisés, dont le niveau de vie moyen est de 5 800 euros par mois, l'espérance de vie à la naissance des hommes est de 84,4 ans.

Champ : France hors Mayotte.

Source : Insee-DGFIP-Cnaf-Cnav-CCMSA, Échantillon démographique permanent.